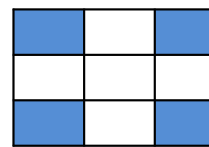
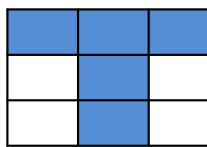
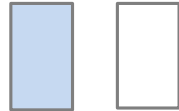
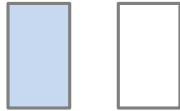
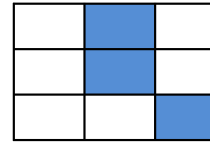
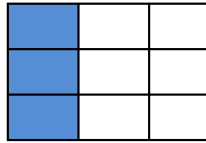
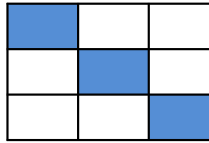


## Opakování zápisu zlomků

Zapiš zlomkem vybarvenou a nevybarvenou část  
obrazce



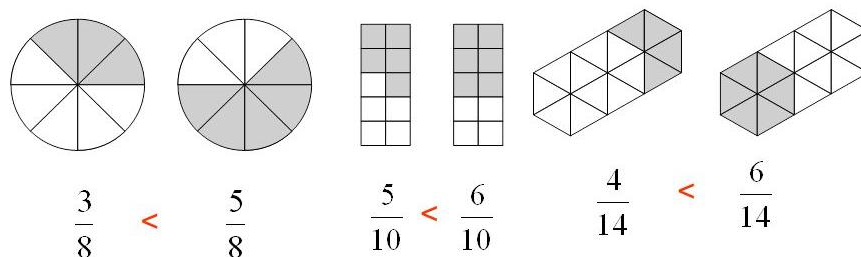
2

4. Zapiš zlomkem:

tři osminy		dvě čtvrtiny		dvě šestiny		osm jedenáctin	
sedm pětín		dvě devítiny		pět osmin		sedm dvanáctin	
čtyři desetiny		tři šestiny		pět devítin		devět desetin	

## Porovnávání zlomků

### a) Stejný jmenovatel

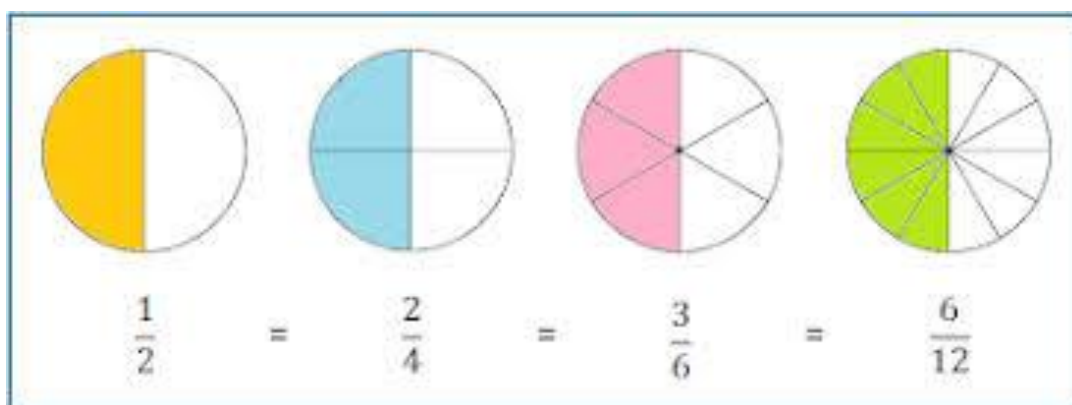


**Máme-li stejného jmenovatele, porovnáváme čitatele.**

Zapište a porovnejte zlomky se stejným jmenovatelem.



### b) Rozdílný jmenovatel



Porovnejte zlomky s různým jmenovatelem (sledujte předchozí znázornění).

$$\frac{1}{2} \quad \frac{1}{4}$$

$$\frac{3}{4} \quad \frac{9}{12}$$

$$\frac{2}{4} \quad \frac{4}{6}$$

$$\frac{4}{6} \quad \frac{8}{12}$$

